


INHOUD

HIERONDER IS DE PLATTEGROND VAN EEN HUIS TE ZIEN. DE MUREN HEBBEN EEN HOOGTE VAN 2,5 METER.


WAT IS DE INHOUD VAN DIT HUIS IN M³?



5 METER
12 METER
2,5 METER

$$5 \times 12 \times 2,5 = 150 \text{ M}^2$$

JE WILT AQUARIUM VULLEN MET WATER.
HOEVEEL LITER WATER GAAT ER IN DIT AQUARIUM?

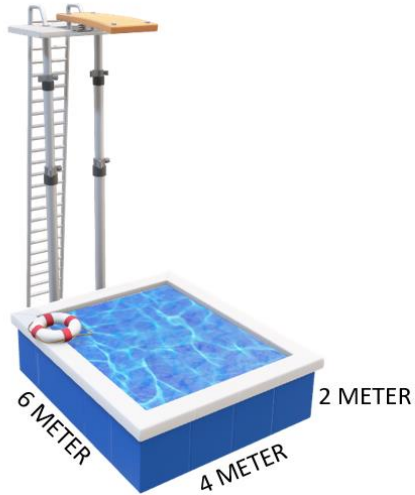


BIJ LITER DE TIP: VAN ELKE EENHEID DM MAKEN.
1 DM³ = 1 LITER

80 CM = 8 DM
60 CM = 6 DM
2 METER = 20 DM

$$8 \times 6 \times 20 = 960 \text{ DM}^3 = 960 \text{ LITER}$$

JE WORDT GEVRAAGD OM DE INHOUD IN LITERS VAN DIT ZWEMBAD TE BEREKENEN.



BIJ LITER DE TIP: VAN ELKE EENHEID DM MAKEN.
1 DM³ = 1 LITER


$$6 \text{ METER} = 60 \text{ DM}$$

$$4 \text{ METER} = 40 \text{ DM}$$

$$2 \text{ METER} = 20 \text{ DM}$$

$$60 \times 40 \times 20 = 48.000 \text{ DM}^3 = 48.000 \text{ LITER}$$

HIERONDER IS EEN GROOT AQUARIUM UIT EEN DIERENTUIN TE VINDEN. ELKE SPECIALE VIS HEEFT 30 LITER WATER NODIG. HOEVEEL VISSEN PASSEN ER IN DIT AQUARIUM?



BIJ LITER DE TIP: VAN ELKE EENHEID DM MAKEN.
1 DM³ = 1 LITER

$$11 \text{ DM}$$

$$80 \text{ CM} = 8 \text{ DM}$$

$$3 \text{ METER} = 30 \text{ DM}$$

$$11 \times 8 \times 30 = 2.640 \text{ LITER}$$

$$2.640 : 30 = 88 \text{ VISSEN}$$